



◀ عد الأصابع



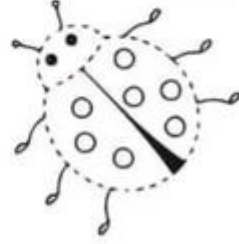
◀ أخطط الرقم 7



◀ ابحث عن 7 ولونه



◀ أحسب عدد النقاط؟
ارسم ولون



◀ اكتب الرقم الناقص

0 1 2 3 4 5 6 _ 8 9